

Итоговый тест по окружающему миру за 2 четверть 1 класс

1 вариант

Часть А

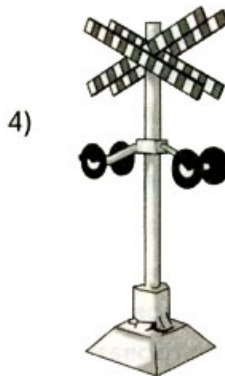
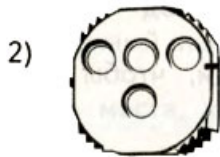
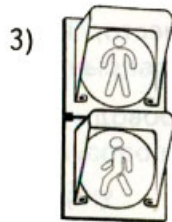
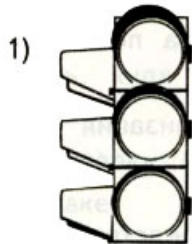
A1. Отметь предмет, который не относится к одежде.

- 1) свитер
- 2) шапка
- 3) пальто
- 4) брюки

A2. Вспомни, что не является частью компьютера.

- 1) системный блок
- 2) мышь
- 3) наушники
- 4) клавиатура

A3. Укажи светофор для пешеходов.



A4. Отметь, что мы наклеиваем на конверт.

- 1) ценник
- 2) наклейку
- 3) марку
- 4) бирку

A5. Выбери свойство снега.

- 1) рыхлый
- 2) скользкий
- 3) прозрачный
- 4) тёплый

A6. Определи, кто не будет членом семьи Даши.

- 1) папа Даши
- 2) подруга Даши
- 3) брат Даши
- 4) бабушка Даши

A7. Выбери жилище для хомяка.

- 1) нора
- 2) гнездо
- 3) дупло
- 4) хатка

A8. Назови изображённую птицу.



- 1) дятел
- 2) свиристель
- 3) поползень
- 4) синица

A9. Найди животное, которое не питается травой.

- 1) собака
- 2) заяц
- 3) олень
- 4) корова

A10. Отметь группу животных, которых называют млекопитающими.

- 1) насекомые
- 2) птицы
- 3) рыбы
- 4) звери

Часть В

B1. Подумай, какой прибор может быть и механическим, и электрическим.

- 1) мясорубка
- 2) микроволновая печь
- 3) пылесос
- 4) холодильник

B2. Определи, какой мусор будет гнить дольше всего.

- 1) фантики от конфет
- 2) картонная упаковка от яиц
- 3) пакет от сока
- 4) бутылка от «Кока-колы»

B3. Подумай, какой признак не относится ко всем животным.

- 1) растут
- 2) питаются
- 3) развиваются
- 4) летают

Часть С

C1. Отметь предметы, которыми можно обжечься.

- 1) утюг
- 2) пылесос
- 3) сковорода
- 4) кастрюля

C2. Укажи условия, необходимые для роста растения в природе.

- 1) свет
- 2) другие растения
- 3) вода
- 4) воздух

Итоговый тест по окружающему миру за 2 четверть 1 класс

2 вариант

Часть А


A1. Отметь предмет, который не относится к мебели.

- 1) кресло
- 2) телевизор
- 3) стул
- 4) диван

A2. Вспомни, что не является частью компьютера.

- 1) монитор
- 3) лазерный диск
- 2) звуковая колонка
- 4) клавиатура

A3. Укажи знак «Пешеходный переход».



A4. Отметь, во что мы вкладываем письмо.

- 1) в конверт
- 2) в посылку
- 3) в бандероль
- 4) в пакет

A5. Выбери свойство льда.

- 1) хрупкий
- 2) рыхлый
- 3) белый
- 4) тёплый

A6. Определи, кто не будет членом семьи Максима.

- 1) дядя Максима
- 2) мама Максима
- 3) дедушка Максима
- 4) учительница Максима

A7. Выбери жилище для бобра.

- 1) нора
- 2) гнездо
- 3) дупло
- 4) хатка

A8. Назови изображённую птицу.



- 1) дрозд
- 2) воробей
- 3) снегирь
- 4) ворона

A9. Выбери животное, которое не питается мелкими зверьками.

- 1) лось
- 2) волк
- 3) рысь
- 4) кошка

A10. Отметь группу животных, которых называют пернатыми.

- 1) насекомые
- 2) птицы
- 3) рыбы
- 4) звери

Часть В

B1. Подумай, какой прибор может быть и механическим, и электрическим.

- 1) дрель
- 2) миксер
- 3) стиральная машина
- 4) духовой шкаф

B2. Подумай, какой мусор сгниёт быстрее.

- 1) банка от рыбных консервов
- 2) бутылка от уксуса
- 3) коробочка от йогурта
- 4) кожура апельсина

B3. Обозначь признак, который не относится ко всем животным.

- 1) дышат
- 2) плавают
- 3) приносят потомство
- 4) умирают

Часть С

C1. Отметь предметы, которыми можно пораниться.

- 1) ножницы
- 2) спички
- 3) спицы
- 4) нож

C2. Укажи условия, необходимые для роста комнатных растений.

- 1) полив
- 2) рыхление
- 3) наличие других растений
- 4) стирание пыли

Ответы на итоговый тест по окружающему миру за 2 четверть 1 класс

1 вариант

A1-2
A2-3
A3-3
A4-3
A5-1
A6-2
A7-1
A8-3
A9-1
A10-4
B1-1
B2-4
B3-4
C1-134
C2-124

2 вариант

A1-2
A2-3
A3-3
A4-1
A5-1
A6-4
A7-4
A8-1
A9-1
A10-2
B1-1
B2-4
B3-2
C1-134
C2-124