

Тест по математике
Доли
Величины
3 класс

1 вариант

A1. Отметь ответ.

Четыре одинаковых по размерам пирога разрезали на равные части: первый — на 4, второй — на 6, третий — на 8, четвёртый — на 10. Доли какого пирога самые большие?

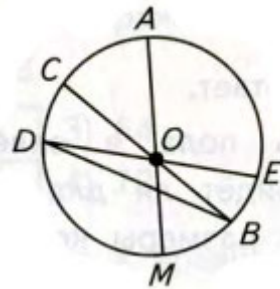
- 1) первого
- 2) второго
- 3) третьего
- 4) четвертого

A2. Отметь, верно ли, что закрашена четвёртая часть прямоугольника.



- 1) да
- 2) нет

A3. Укажи, какой из отрезков не является диаметром окружности.

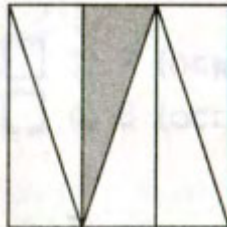


- 1) AM
- 2) BD
- 3) BC
- 4) DE

B1. Укажи, какую часть метра составляет 1 см.

- 1) десятую
- 2) сотую

C1. Отметь, какая часть квадрата закрашена.



- 1) третья
- 2) четвертая
- 3) шестая
- 4) восьмая

Тест по математике
Доли
Величины
3 класс

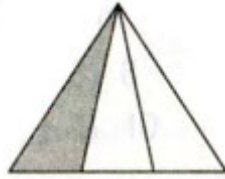
2 вариант

A1. Отметь ответ.

Четыре одинаковых по размерам арбуза разрезали на равные части первый — пополам, второй — на 9 частей, третий — на 12, четвёртый — на 8. Доли какого арбуза самые маленькие?

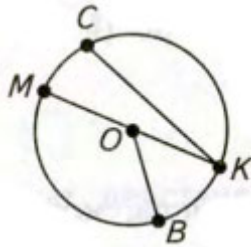
- 1) первого
- 2) второго
- 3) третьего
- 4) четвертого

A2. Отметь, верно ли, что закрашена третья часть треугольника.



- 1) да
- 2) нет

A3. Укажи, какой из отрезков является диаметром окружности.

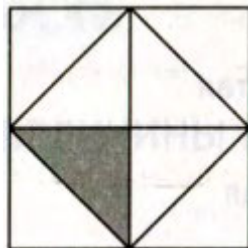


- 1) OB
- 2) KC
- 3) MK
- 4) MO

B1. Укажи, какую часть дециметра составляет 1 см.

- 1) десятую
- 2) сотую

C1. Какая часть квадрата закрашена.



- 1) четвёртая
- 2) шестая
- 3) восьмая
- 4) десятая

Ответы на тест по математике Доли Величины

1 вариант

A1-1

A2-1

A3-2

B1-2

C1-3

2 вариант

A1-3

A2-2

A3-3

B1-1

C1-3